

Auszug aus einem möglichen Berufseignungstest

ausgewählte Beispiele

Technik:

Frisches Holz enthält stets Wasser. Wenn es trocknet,

1. dehnt es sich aus
2. dehnt es sich aus und bekommt Risse
3. schrumpft es und kann Risse bekommen

Welche Stoffe eignen sich gut zur Schalldämpfung?

1. feste Stoffe mit viel Masse, großem Gewicht, wie Steine und Beton
2. lockere Stoffe wie Teppiche, Kork oder Wolle

Logisches Denken

Die folgenden Zahlenreihen sind nach bestimmten Regeln gebildet worden. Bitte ergänzen sie die nächste Zahl:

3691215 .
33 26 20 15 11 8 .

Aus den Eintragungen in der ersten und zweiten Zeile, kann logisch geschlossen werden, wie dieses Feld zu füllen ist.

A	B	C
A	C	B
B	C	
A	C	E
D	F	H
K	M	

Mathematik Zahlengefühl

Variante 1:

Eine Terrasse, die eine Größe von 3x4 m erhalten soll, wird mit 50x50 cm großen Platten belegt. Wie viele Platten benötigt man dazu?

Variante 2:

Eine Terrasse hat die Größe von 3x4 m. Für einen m² benötigt man 4 Platten. Wie viele Platten braucht man um die ganze Terrasse zu verlegen?

Sprachgefühl

In jeder Zeile finden Sie vier Wörter. Unterstreichen Sie die beiden, die entweder Gegensätze sind oder die gleiche (bzw. sehr ähnliche) Bedeutung haben.

- alt süß sauer super
- faul sparsam träge schlau
- spielen **aufwachen** rennen einschlafen

Schreibe die richtige Schreibweise darunter:

Die Aufgabe der Augenoptiker

ist das Fertigen bzw. Beschaffen von Sebehelfen

(Brillen, Kontaktlinnsen, usw.)

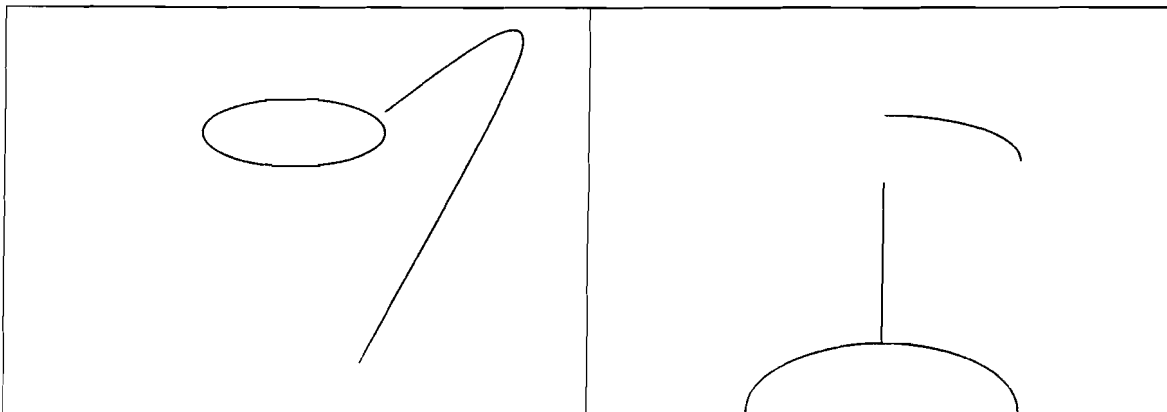
nach Verordnung des Augenarztes bzw. nach eigenen Mesungen.

Schätzung

Eine Person mit 1.80 Meter Größe nimmt einen Stock (1 Meter lang) in die Hand und stellt diesen neben sich auf. Der Schüler soll schätzen wie lang der Stock ist.

Kreativität

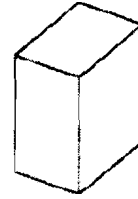
Im folgenden Testabschnitt finden sie angefangene Zeichnungen. Bitte ergänzen sie diese nach eigenen Vorstellungen.



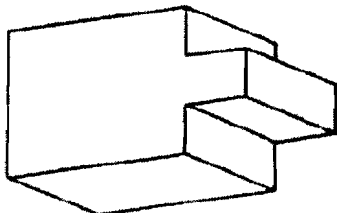
Räumliches Vorstellungsvermögen

Anleitung

Wieviele (auch) hat der Quader?
Ein Quader hat ~~ähnlich~~ wie ein Würfel 6 Oberflächen.
Die gesuchte ~~Zahl~~ 6 ist deshalb angekreuzt



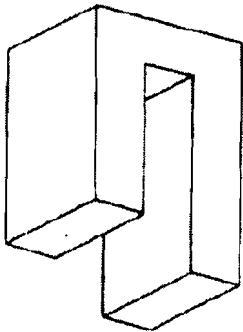
6 7 8 9 10 11 12 13 14 15



Aufgabe 1

Wieviele Oberflächen hat der Körper?

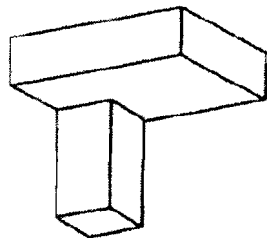
6 7 8 9 10 11 12 13 14 15



Aufgabe 2

Wieviele Oberflächen hat der Körper?

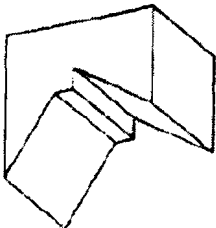
6 7 8 9 10 11 12 13 14 15



Aufgabe 3

Wieviele Oberflächen hat der Körper?

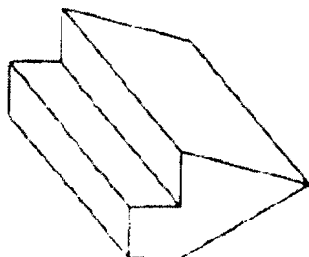
6 7 8 9 10 11 12 13 14 15



Aufgabe 4

Wieviele Oberflächen hat der Körper?

6 7 8 9 10 11 12 13 14 15




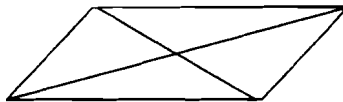
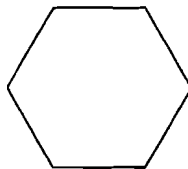
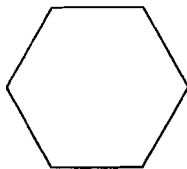


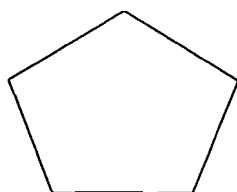
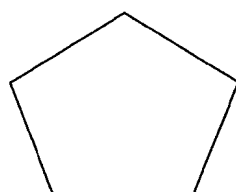
Aufgabe 5

Wieviele Oberflächen hat der Körper?

6 7 8 9 10 11 12 13 14 15

Fingerfertigkeit

Bei den folgenden Figuren sollen Sie mit einem Kugelschreiber immer die Diagonalen einzeichnen - so wie es in der Vorlage gezeigt ist.

Diese Beispiele stellen nur einen kleinen Ausschnitt aus einem praxisorientierten Testverfahren dar. Ein umfassender Berufseignungstest kann im BIZ durchgeführt werden.

Kontakt: BIZ St. Pölten, Tel.: 02742890-2217